

## TITRE DE LA LEÇON : LES SILENCES

Discipline : Education musicale

Sous-discipline : Théorie musicale

Cycle : Collège - Niveau : sixième

### I- Définition

Les silences sont des signes qui indiquent les arrêts momentanés des sons.

### II- Figures de silences

Il y a sept (07) figures de silences qui sont :

1- La pause



OU



2- La demi-pause



OU



3- Le soupir



1- Le demi-soupir



5- Le quart de soupir



6- Le huitième de soupir



7- Le seizième de soupir



**Remarque** : La pause se place au-dessous de la 4<sup>ème</sup> ligne de la portée et la demi-pause au-dessus de la 3<sup>ème</sup> ligne de la portée. Les autres figures de silences n'ont pas de positions fixes sur la portée.

### III- Valeur relative des figures de silences

Les sept (07) figures de silences disposées dans l'ordre déjà indiqué représentent chacune le double de celle qui la suit.

La pause représente la plus longue durée et le seizième de soupir la plus courte durée, c'est-à-dire :

La pause



vaut

2

ou 4



ou 8



ou 16



ou 32



ou 64



La demi-pause



vaut

2

ou 4



ou 8



ou 16



ou 32



Le soupir



vaut

2

ou 4



ou 8



ou 16



Le demi-soupir



vaut

2

ou 4



ou 8



ou 16

















Le quart de soupir  vaut 2  ou 4 

Le huitième de soupir  vaut 2 

#### IV-Tableau de rapport des durées entre les notes et les silences:

Chaque figure de silence correspond à une figure de note de la manière suivante :

| Figures de notes  | Figures de silences   | Durées     |
|---|---|------------|
|    |    | 4 temps    |
|    |    | 2 temps    |
|    |    | 1 temps    |
|    |    | ½ temps    |
|   |   | ¼ temps    |
|  |  | 1/8 temps  |
|  |  | 1/16 temps |

#### Exercice

- 1- Dessine les figures suivantes : Le quart de soupir ; le soupir.
- 2- Etablis la différence entre la pause et la demi-pause.
- 3- Trouve le nombre de huitième de soupirs qui donne la durée d'une pause.
- 4- Trouve les figures de notes qui ont la même valeur que le quart de soupir et le seizième de soupir.